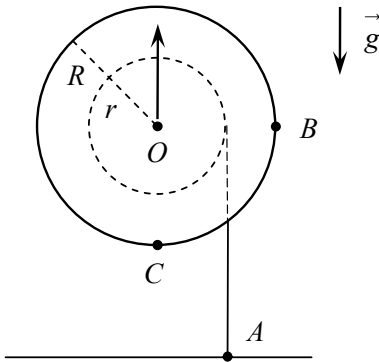
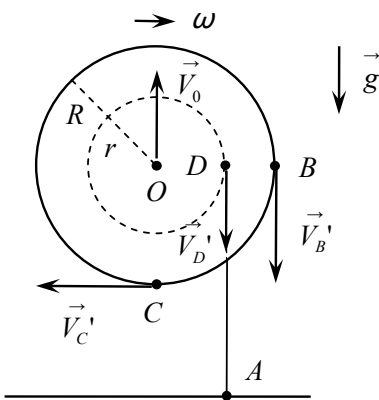


Отборочный этап. 10 класс

Задача 1 / 1. Катушка, состоящая из внутреннего цилиндра радиуса $r = 16$ мм и боковых колёс радиуса $R = 31$ мм, может вращаться вокруг горизонтальной оси, проходящей через точку O . На внутренний цилиндр намотана тонкая нерастяжимая лента, вертикальный конец которой закреплён на полу в точке A . Ось катушки поднимают вертикально вверх. Считая, что лента натянута и не скользит по катушке, найдите отношение $x = V_B/V_C$, где V_B и V_C — мгновенные скорости точек B и C , лежащих на концах горизонтального и вертикального диаметров одного из боковых колёс. Ответ округлите до сотых.



Возможное решение



Обозначим через \vec{V}_0 мгновенную скорость точки O относительно пола и через ω мгновенную угловую скорость вращения катушки вокруг этой точки. Найдём связь между V_0 и ω . Скорость всех точек вертикального участка ленты относительно пола равна нулю. В частности, это верно и для точки D , в которой этот участок касается внутреннего цилиндра катушки. Скорость точки D относительно пола равна:

$$\vec{V}_D = \vec{V}_0 + \vec{V}_D',$$

где \vec{V}_D' — линейная скорость точки D относительно точки O . Вектор \vec{V}_D' направлен противоположно вектору \vec{V}_0 и по абсолютной величине равен ωr . Из условия $\vec{V}_D = 0$ получаем:

$$V_0 = \omega r \quad \rightarrow \quad \omega = \frac{V_0}{r}.$$

Рассмотрим теперь скорости точек B и C относительно пола:

$$\vec{V}_B = \vec{V}_0 + \vec{V}_B', \quad \vec{V}_C = \vec{V}_0 + \vec{V}_C'.$$

Здесь \vec{V}_B' и \vec{V}_C' — линейные скорости рассматриваемых точек относительно точки O . По абсолютной величине они одинаковы:

$$V_B' = V_C' = \omega R = V_0 \frac{R}{r}.$$

Вектор \vec{V}_B' направлен противоположно \vec{V}_0 . Так как $V_B' > V_0$, вектор скорости \vec{V}_B направлен вертикально вниз. Его абсолютная величина равна:

$$V_B = V_B' - V_0 = V_0 \left(\frac{R}{r} - 1 \right) = \frac{V_0 (R - r)}{r}.$$

Вектор \vec{V}_C' перпендикулярен \vec{V}_0 . Поэтому абсолютную величину скорости точки C находим по теореме Пифагора:

$$V_C = \sqrt{V_C'^2 + V_0^2} = V_0 \sqrt{\left(\frac{R}{r} \right)^2 + 1} = \frac{V_0 \sqrt{R^2 + r^2}}{r}.$$

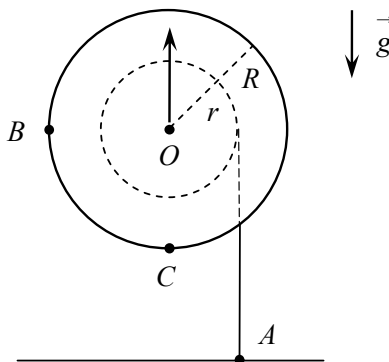
Отношение скоростей точек B и C равно:

$$x = \frac{V_B}{V_C} = \frac{R - r}{\sqrt{R^2 + r^2}} = 0,43.$$

Ответ:

$$x = \frac{R - r}{\sqrt{R^2 + r^2}} = 0,43.$$

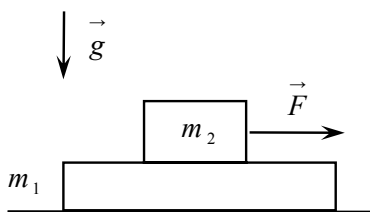
Задача 1 / 2. Катушка, состоящая из внутреннего цилиндра радиуса $r = 13$ мм и боковых колёс радиуса $R = 29$ мм, может вращаться вокруг горизонтальной оси, проходящей через точку O . На внутренний цилиндр намотана тонкая нерастяжимая лента, вертикальный конец которой закреплён на полу в точке A . Ось катушки поднимают вертикально вверх. Считая, что лента натянута и не скользит по катушке, найдите отношение $x = V_B/V_C$, где V_B и V_C — мгновенные скорости точек B и C , лежащих на концах горизонтального и вертикального диаметров одного из „колёс“. Ответ округлите до десятых.



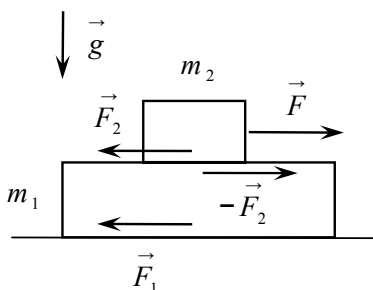
Ответ:

$$x = \frac{R + r}{\sqrt{R^2 + r^2}} = 1,3.$$

Задача 2 / 1. На длинном горизонтальном столе лежит доска массой $m_1 = 1,5$ кг. Коэффициент трения между доской и столом $\mu_1 = 0,04$. На доске стоит брусок массой $m_2 = 0,5$ кг. Коэффициент трения между бруском и доской $\mu_2 = 0,3$. На брусок начинает действовать горизонтальная сила, зависящая от времени по закону $F = kt$, где $k = 0,25$ Н/с. Найдите время τ , прошедшее от начала движения доски по столу до начала скольжения бруска по доске. Ответ выразите в секундах и округлите до десятых. Ускорение свободного падения $g = 10$ м/с².



Возможное решение



На доску со стороны стола действует сила трения \vec{F}_1 . На брусок со стороны доски действует сила трения \vec{F}_2 . По третьему закону Ньютона брусок действует на доску силой $-\vec{F}_2$. Пока внешняя сила F мала, доска и брусок неподвижны и силы F_1 и F_2 являются силами трения покоя. В этом случае имеем равенства:

$$F_1 = F_2 = F.$$

Поскольку сила трения покоя не превосходит силу трения скольжения, максимальные значения сил F_1 и F_2 равны:

$$F_{1max} = \mu_1 (m_1 + m_2) g = 0,8 \text{ Н},$$

$$F_{2max} = \mu_2 m_2 g = 1,5 \text{ Н}.$$

При увеличении внешней силы F сначала будет достигнуто значение F_{1max} , то есть первой начнёт двигаться доска. Найдём момент времени t_1 , когда это произойдёт:

$$F_{1max} = F, \quad \mu_1 (m_1 + m_2) g = kt_1 \quad \rightarrow \quad t_1 = \frac{\mu_1 (m_1 + m_2) g}{k}.$$

При $t > t_1$ доска и брусок будут некоторое время двигаться как одно тело. Найдём ускорение этого движения:

$$(m_1 + m_2) a = F - \mu_1 (m_1 + m_2) g \quad \rightarrow \quad a = \frac{F}{m_1 + m_2} - \mu_1 g.$$

Запишем второй закон Ньютона для бруска:

$$m_2 a = F - F_2.$$

Выразим отсюда F_2 :

$$F_2 = F - m_2 a = F - \frac{m_2 F}{m_1 + m_2} + \mu_1 m_2 g = \frac{m_1 F}{m_1 + m_2} + \mu_1 m_2 g.$$

С ростом F сила F_2 увеличивается и в некоторый момент времени t_2 достигает своего максимального значения F_{2max} . В этот момент брусок начинает скользить по доске. Найдём время t_2 :

$$\mu_2 m_2 g = \frac{m_1 k t_2}{m_1 + m_2} + \mu_1 m_2 g \quad \rightarrow \quad t_2 = \frac{(m_1 + m_2) g}{m_1 k} \cdot (\mu_2 - \mu_1) m_2.$$

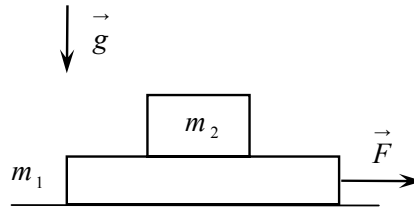
Искомое время τ равно:

$$\tau = t_2 - t_1 = \frac{(m_1 + m_2) g}{k} \left(\frac{m_2 (\mu_2 - \mu_1)}{m_1} - \mu_1 \right) = 3,7 \text{ с}.$$

Ответ:

$$\tau = \frac{(m_1 + m_2)g}{k} \left(\frac{m_2(\mu_2 - \mu_1)}{m_1} - \mu_1 \right) = 3,7 \text{ с.}$$

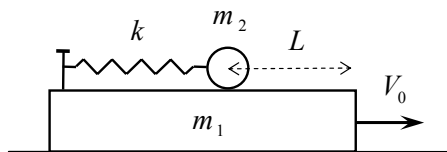
Задача 2 / 2. На длинном горизонтальном столе лежит доска массой $m_1 = 1,2$ кг. Коэффициент трения между доской и столом $\mu_1 = 0,15$. На доске стоит брусок массой $m_2 = 0,3$ кг. Коэффициент трения между бруском и доской $\mu_2 = 0,25$. На доску начинает действовать горизонтальная сила, зависящая от времени по закону $F = kt^2$, где $k = 0,2$ Н/с². Найдите время τ , прошедшее от начала движения доски по столу до начала скольжения бруска по доске. Ответ выразите в секундах и округлите до десятых. Ускорение свободного падения $g = 10$ м/с².



Ответ:

$$\tau = \sqrt{\frac{(m_1 + m_2)g}{k}} (\sqrt{\mu_1 + \mu_2} - \sqrt{\mu_1}) = 2,1 \text{ с.}$$

Задача 3 / 1. На гладком горизонтальном столе стоит брусок массой $m_1 = 0,4$ кг. В левый край бруска вбит гвоздь, к которому прикреплена невесомая горизонтальная пружина жёсткости $k = 20$ Н/м. Другой конец пружины прикреплен к шарiku массой $m_2 = 0,1$ кг. Расстояние от центра шарика до правого края бруска $L = 5$ см. Коротким ударом бруску сообщают скорость V_0 , направленную вдоль пружины вправо. Найдите максимальное значение этой скорости, при котором шарик не соскочит с бруска. Ответ выразите в м/с и округлите до десятых. Считайте, что за время удара шарик не успел прийти в движение; трение не учитывайте.



Возможное решение

Максимальное значение V_0 соответствует случаю, когда на правом краю бруска скорость шарика относительно бруска обращается в нуль. При этом относительно стола шарик и брусок движутся с одной и той же скоростью V . По закону сохранения импульса

$$m_1 V_0 = (m_1 + m_2) V \quad \rightarrow \quad V = \frac{m_1 V_0}{m_1 + m_2}.$$

Далее воспользуемся законом сохранения энергии:

$$\frac{m_1 V_0^2}{2} = \frac{(m_1 + m_2) V^2}{2} + \frac{k L^2}{2}, \quad m_1 V_0^2 = (m_1 + m_2) V^2 + k L^2.$$

Подставляя сюда найденное значение V , находим V_0 :

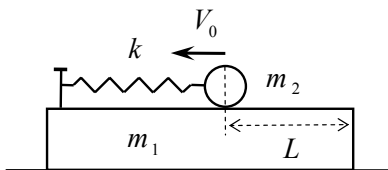
$$m_1 V_0^2 = (m_1 + m_2) \cdot \left(\frac{m_1 V_0}{m_1 + m_2} \right)^2 + k L^2, \quad m_1 V_0^2 \left(1 - \frac{m_1}{m_1 + m_2} \right) = k L^2,$$

$$\frac{m_1 m_2 V_0^2}{m_1 + m_2} = k L^2 \quad \rightarrow \quad V_0 = L \sqrt{\frac{k(m_1 + m_2)}{m_1 m_2}} = 0,8 \text{ м/с}.$$

Ответ:

$$V_0 = L \sqrt{\frac{k(m_1 + m_2)}{m_1 m_2}} = 0,8 \text{ м/с}.$$

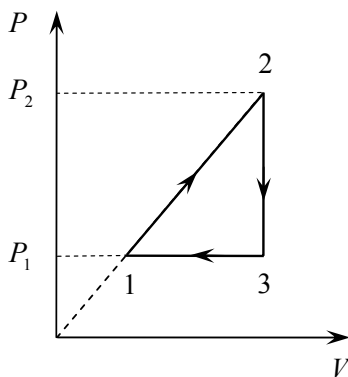
Задача 3 / 2. На гладком горизонтальном столе стоит брусок массой $m_1 = 0,25$ кг. В левый край бруска вбит гвоздь, к которому прикреплена невесомая горизонтальная пружина жёсткости $k = 10$ Н/м. Другой конец пружины прикреплен к шарiku массой $m_2 = 0,05$ кг. Расстояние от центра шарика до правого края бруска $L = 4$ см. Коротким ударом шарiku сообщают скорость V_0 , направленную вдоль пружины влево. Найдите максимальное значение этой скорости, при котором шарик не соскочит с бруска. Ответ выразите в м/с и округлите до десятых. Считайте, что за время удара брусок не успел прийти в движение; трение не учитывайте.



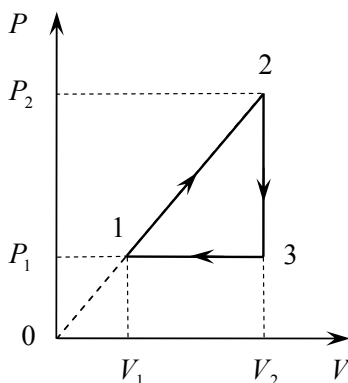
Ответ:

$$V_0 = L \sqrt{\frac{k(m_1 + m_2)}{m_1 m_2}} = 0,6 \text{ м/с}.$$

Задача 4 / 1. Тепловой двигатель работает по замкнутому циклу, состоящему из трёх участков. Участок 1–2 — отрезок прямой, проходящей через начало координат на диаграмме P, V ; 2–3 — изохорическое охлаждение, 3–1 — изобарическое сжатие. Рабочим веществом является газовая смесь, состоящая из ν_1 молей гелия и ν_2 молей молекулярного азота N_2 . Известно отношение давлений смеси в состояниях 2 и 1: $P_2/P_1 = 2$. КПД двигателя $\eta = 6,5\%$. Найдите отношение x числа молей гелия и азота: $x = \nu_1/\nu_2$. Ответ округлите до сотых.



Возможное решение



Найдём связь объёмов и температур в состояниях 1 и 2. Из подобия треугольников $01V_1$ и $02V_2$ получаем:

$$\frac{V_2}{V_1} = \frac{P_2}{P_1} = 2 \quad \rightarrow \quad V_2 = 2V_1.$$

Запишем уравнение состояния газовой смеси в точках 1 и 2:

$$P_1 V_1 = \nu R T_1, \quad P_2 V_2 = \nu R T_2.$$

Здесь $\nu = \nu_1 + \nu_2$ — полное число молей смеси, R — универсальная газовая постоянная. Поделив второе уравнение на первое, получаем:

$$\frac{T_2}{T_1} = \frac{P_2}{P_1} \cdot \frac{V_2}{V_1} = 4 \quad \rightarrow \quad T_2 = 4T_1.$$

Работу газовой смеси за цикл вычислим как площадь треугольника 123:

$$A = \frac{1}{2} (P_2 - P_1) (V_2 - V_1) = \frac{1}{2} P_1 V_1 = \frac{1}{2} \nu R T_1.$$

Газовая смесь получает тепло на участке 1-2. Подведённое количество теплоты равно:

$$Q = \frac{3}{2} \nu_1 R (T_2 - T_1) + \frac{5}{2} \nu_2 R (T_2 - T_1) + A_{12} = \frac{3}{2} (3\nu_1 + 5\nu_2) R T_1 + A_{12},$$

A_{12} — работа газовой смеси на участке 1-2. Вычислим эту работу как площадь трапеции $V_1 1 2 V_2$:

$$A_{12} = \frac{1}{2} (P_1 + P_2) (V_2 - V_1) = \frac{3}{2} P_1 V_1 = \frac{3}{2} \nu R T_1.$$

Для подведённого количества теплоты получаем:

$$Q = \frac{3}{2} (3\nu_1 + 5\nu_2) R T_1 + \frac{3}{2} (\nu_1 + \nu_2) R T_1 = 3(2\nu_1 + 3\nu_2) R T_1.$$

КПД двигателя равен:

$$\eta = \frac{A}{Q} = \frac{\nu_1 + \nu_2}{6(2\nu_1 + 3\nu_2)} = \frac{x + 1}{6(2x + 3)},$$

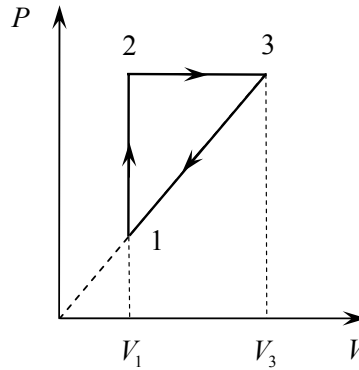
где $x = \nu_1/\nu_2$. Отсюда находим отношение числа молей:

$$12\eta x + 18\eta = x + 1 \quad \rightarrow \quad x = \frac{18\eta - 1}{1 - 12\eta} = 0,77.$$

Ответ:

$$x = \frac{18\eta - 1}{1 - 12\eta} = 0,77.$$

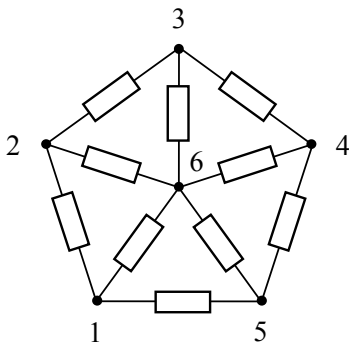
Задача 4 / 2. Тепловой двигатель работает по замкнутому циклу, состоящему из трёх участков. Участок 1–2 — изохорическое нагревание, 2–3 — изобарическое расширение, 3–1 — отрезок прямой, проходящей через начало координат на диаграмме P, V . Рабочим веществом является газовая смесь, состоящая из ν_1 молей гелия и ν_2 молей молекулярного азота N_2 . Известно отношение объёмов смеси в состояниях 3 и 1: $V_3/V_1 = 2$. КПД двигателя $\eta = 7\%$. Найдите отношение x числа молей гелия и азота: $x = \nu_1/\nu_2$. Ответ округлите до десятых.



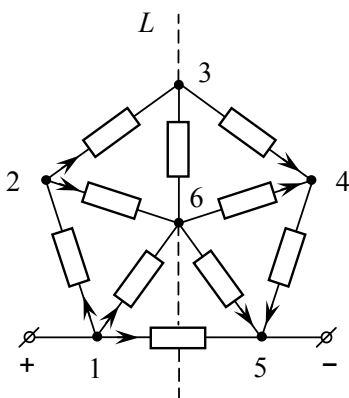
Ответ:

$$x = \frac{19\eta - 1}{1 - 13\eta} = 3,7.$$

Задача 5 / 1. Плоский каркас собран из десяти одинаковых сопротивлений, соединённых в точках 1 — 6. Каркас подключён к источнику постоянного напряжения за точки 1 и 5. Найдите отношение $x = P_{45}/P_0$, где P_{45} — тепловая мощность, выделяющаяся на участке 4–5; P_0 — тепловая мощность, выделяющаяся на всём каркасе. Ответ округлите до тысячных.



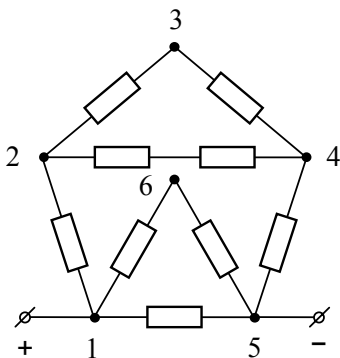
Возможное решение



Пусть положительный полюс батареи подключён к точке 1, а отрицательный к точке 5. Рассматриваемая схема зеркально симметрична относительно прямой L , проходящей через точки 3 и 6. Поэтому распределение токов также зеркально симметрично. Это означает, что выполняются следующие равенства:

$$I_{23} = I_{34}, \quad I_{26} = I_{46}, \quad I_{16} = I_{56}.$$

Здесь нижние индексы указывают участки, по которым текут соответствующие токи. В силу этих равенств ток на участке 3–6 равен нулю и этот участок можно убрать из схемы. Кроме того, можно разъединить точку 6. В результате получаем упрощённую схему.

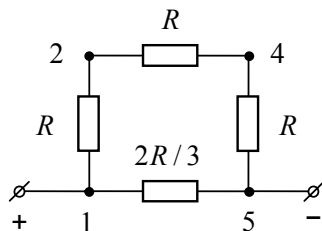


Обозначим через R каждое из исходных сопротивлений. В получившейся схеме верхний треугольник 234 состоит из двух сопротивлений $2R$, соединённых параллельно. Общее сопротивление этого треугольника равно:

$$\frac{2R \cdot 2R}{2R + 2R} = R.$$

Нижний треугольник 156 состоит из сопротивлений R и $2R$, также соединённых параллельно. Его общее сопротивление равно:

$$\frac{R \cdot 2R}{R + 2R} = \frac{2R}{3}.$$



Получаем совсем простую схему, с помощью которой находим общее сопротивление исходного каркаса:

$$R_0 = \frac{3R \cdot (2R/3)}{3R + (2R/3)} = \frac{6R}{11}.$$

Тепловая мощность, выделяющаяся на всём каркасе, равна:

$$P_0 = \frac{V^2}{R_0} = \frac{11V^2}{6R},$$

V — напряжение, поданное на точки 1 и 5. Сила тока, текущего по участку 4–5, равна:

$$I_{45} = \frac{V}{3R}.$$

Тепловая мощность, выделяющаяся на этом участке:

$$P_{45} = I_{45}^2 R = \frac{V^2}{9R}.$$

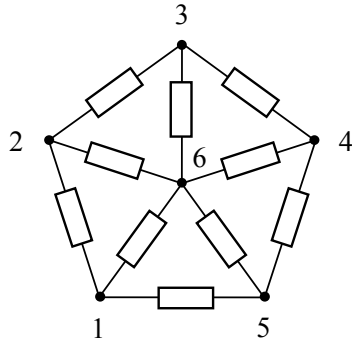
Отношение мощностей:

$$x = \frac{P_{45}}{P_0} = \frac{6}{9 \cdot 11} = \frac{2}{33} = 0,061.$$

Ответ :

$$x = \frac{2}{33} = 0,061.$$

Задача 5 / 2. Плоский каркас собран из десяти одинаковых сопротивлений, соединённых в точках 1 – 6. Каркас подключён к источнику постоянного напряжения за точки 2 и 4. Найдите отношение $x = P_{56}/P_0$, где P_{56} – тепловая мощность, выделяющаяся на участке 5–6; P_0 – тепловая мощность, выделяющаяся на всём каркасе. Ответ округлите до тысячных.



Ответ :

$$x = \frac{1}{88} = 0,011.$$