

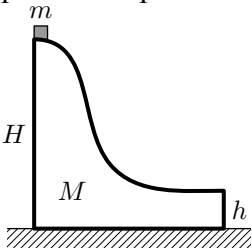
Олимпиада «Курчатов»
2016–17 учебный год
Заключительный этап

11 класс

Задача 1 (5 баллов)

Условие

Небольшая шайба массой m скатывается с вершины гладкой горки массой M и высотой H . Горка находится на гладкой поверхности. На какой высоте h над поверхностью должен находиться нижний горизонтальный участок горки для того, чтобы шайба упала на поверхность на максимальном расстоянии от точки поверхности, над которой произошел отрыв? Чему равно это расстояние, если $m : M = 19 : 81$, а высота горки $H = 1$ м?



Возможное решение

Поскольку все поверхности гладкие, то выполняется закон сохранения энергии.

$$mgH = mgh + m \frac{v^2}{2} + M \frac{u^2}{2},$$

где v – скорость шайбы в момент отрыва, а u – скорость горки.

Из закона сохранения импульса:

$$mv = Mu$$

Рассмотрим полет шайбы после покидания поверхности горки. Поскольку она вылетает горизонтально, то время полета $t_{\text{п}} = \sqrt{\frac{2h}{g}}$, а дальность полета $L = vt_{\text{п}} = v \sqrt{\frac{2h}{g}}$

Выражая из законов сохранения u и v находим L :

$$u = \frac{m}{M}v$$
$$mgH = mgh + m \frac{v^2}{2} + M \frac{(\frac{m}{M}v)^2}{2} = mgh + m \frac{v^2}{2} (1 + \frac{m}{M})$$
$$v^2 = 2g(H - h) / (1 + \frac{m}{M})$$

$$v = \sqrt{\frac{2Mg(H - h)}{M + m}}$$

$$L = 2 \sqrt{h(H - h) \frac{M}{M + m}}$$

Как видно, выражение для L принимает максимальное значение при $h = H/2$.

$$L_{max} = H \sqrt{\frac{M}{M+m}} = 0,9H = 0,9 \text{ м.}$$

Критерии оценивания

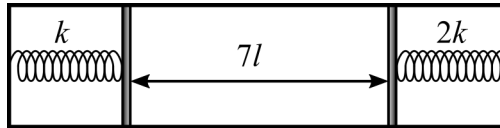
Правильное решение оценивается в 5 баллов независимо от выбранного участником метода.

Верно записан закон сохранения энергии.....	1 балл
Верно записан закон сохранения импульса.....	1 балл
Найдена дальность полета.....	1 балл
Найдена высота нижнего участка горки.....	1 балл
Найдена максимальная дальность полета.....	1 балл

Задача 2 (5 баллов)

Условие

К боковым стенкам горизонтально расположенного цилиндра с помощью пружин прикреплены два лёгких подвижных поршня, как показано на рисунке. Жёсткость левой пружины равна k , правой – $2k$, пружины подчиняются закону Гука и находятся в вакууме. Между поршнями находится идеальный газ при температуре $T_1 = 350$ К, расстояние между поршнями $7l$, длина каждой из пружин $3l$. После того, как газ нагрели до температуры $T_2 = 600$ К, длина правой пружины уменьшилась до $2l$. Найдите длины пружин в недеформированном состоянии.



Возможное решение

Поскольку жёсткость правой пружины в 2 раза больше, чем левой, а изменения сил давления на оба поршня при нагревании газа одинаковы, сжатие левой пружины должно быть в два раза больше, то есть составит $2l$. Поэтому после нагревания расстояние между поршнями будет равно $10l$. Пусть p_1, V_1 — начальные давление и объём газа, а p_2, V_2 — конечные. Как следует из уравнения состояния идеального газа:

$$\frac{p_2 V_2}{p_1 V_1} = \frac{T_2}{T_1}, \text{ откуда } \frac{p_2}{p_1} = \frac{T_2 V_1}{T_1 V_2} = \frac{600}{350} \cdot \frac{7l}{10l} = \frac{6}{5} = 1,2.$$

Значит, давление в результате нагревания увеличилось на 20%, из чего следует, что и деформация пружин увеличилась на 20%. Получается, что начальная деформация левой пружины равна $10l$, а правой — $5l$. Длина левой пружины в недеформированном состоянии $13l$, а правой — $8l$.

Критерии оценивания

Правильное решение оценивается в 5 баллов независимо от выбранного участником метода.

Указано, что уменьшение длины левой пружины равно $2l$	1 балл
Найдено расстояние между поршнями после нагревания	1 балл
Правильно использовано уравнение состояния идеального газа	1 балл
Получен ответ	2 балла

Задача 3 (5 баллов)

Условие

Электронагреватель с сопротивлением 90 Ом помещён в баллон, в котором находится одноатомный идеальный газ под давлением $3 \cdot 10^5$ Па. Электронагреватель на 5 минут подключают к источнику постоянного напряжения с ЭДС 100 В и внутренним сопротивлением 10 Ом, после чего давление в баллоне становится равным $6 \cdot 10^5$ Па. Определите объём баллона. Газ не обменивается теплотой с окружающей средой.

Возможное решение

Сила тока, текущего через нагреватель, равна

$$\frac{100 \text{ В}}{90 \text{ Ом} + 10 \text{ Ом}} = 1 \text{ А.}$$

Количество теплоты, выделившейся в нагревателе:

$$Q = (1 \text{ А})^2 \cdot 90 \text{ Ом} \cdot 300 \text{ с} = 27 \text{ кДж.}$$

Поскольку газ не обменивается теплотой с окружающей средой и его объём постоянен (и равен объёму баллона), вся выделившаяся в нагревателе теплота пошла на увеличение внутренней энергии газа. Пусть V – объём баллона, а $\Delta p = 3 \cdot 10^5$ Па – изменение давления газа в баллоне, тогда

$$27 \text{ кДж} = \frac{3}{2} \Delta p V \Rightarrow V = \frac{18000 \text{ Дж}}{3 \cdot 10^5 \text{ Па}} = 6 \cdot 10^{-2} \text{ м}^3 = 60 \text{ л.}$$

Критерии оценивания

Правильное решение оценивается в 5 баллов независимо от выбранного участником метода.

Найдена сила тока, текущего через нагреватель, или напряжение на нём	1 балл
Применен закон Джоуля-Ленца	1 балл
Применено выражение для внутренней энергии идеального одноатомного газа.....	1 балл
Получен ответ	2 балла

Задача 4 (5 баллов)

Условие

Три одинаковых маленьких шарика, каждый из которых имеет массу m и несёт заряд q , удерживают в вершинах правильного треугольника с длиной стороны a . В некоторый момент все шарики отпускают, сообщая каждому скорость v , направленную к центру треугольника. Какой путь пройдёт каждый из шариков к тому моменту, когда его скорость станет равной нулю?

Возможное решение

Поскольку все шарики находятся в одинаковых условиях, они и двигаться будут одинаково: вдоль прямых, соединяющих их начальные положения с центром треугольника, причём в любой момент времени между всеми шариками будут одинаковые расстояния. Значит, и скорости шариков обратятся в ноль одновременно. Пусть в этот момент расстояния между шариками равны b . Запишем закон сохранения энергии:

$$3\left(\frac{q^2}{4\pi\epsilon_0 a} + \frac{mv^2}{2}\right) = 3\frac{q^2}{4\pi\epsilon_0 b} \Rightarrow a - b = \frac{2\pi\epsilon_0 mv^2 a^2}{q^2 + 2\pi\epsilon_0 mv^2 a}.$$

Расстояние от вершины до центра в правильном треугольнике со стороной a равно $a/\sqrt{3}$, значит, искомый путь каждого из шариков равен:

$$s = \frac{2\sqrt{3}\pi\epsilon_0 mv^2 a^2}{3(q^2 + 2\pi\epsilon_0 mv^2 a)}.$$

Критерии оценивания

Правильное решение оценивается в 5 баллов независимо от выбранного участником метода.

Указано, что заряды движутся одинаковым образом 1 балл

Правильно применен закон сохранения энергии 2 балла

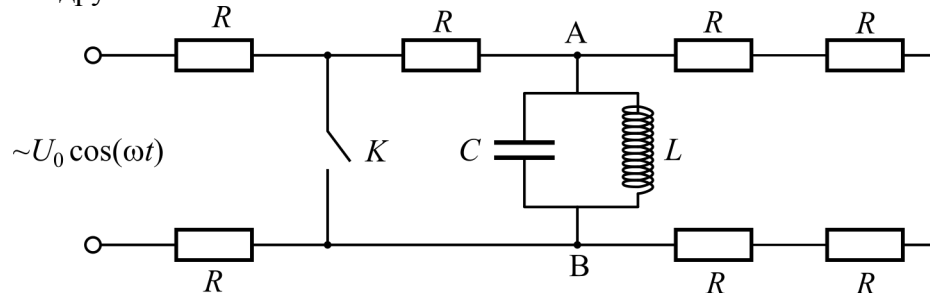
Получен правильный ответ 2 балла

Задача 5 (10 баллов)

Условие

В электрической цепи, схема которой показана на рисунке, все резисторы одинаковые, и сопротивление каждого из них равно R . Цепь очень давно подключена к источнику переменного напряжения $U(t) = U_0 \cos \omega t$. Ёмкость C конденсатора и индуктивность L катушки подобраны таким образом, что выполняется соотношение: $\omega L = 1/(\omega C)$.

- 1) Найдите максимальное напряжение на конденсаторе.
- 2) Найдите максимальную силу тока, протекающего через катушку.
- 3) Ключ K замыкают в момент, когда ток через катушку не течёт. Найдите количество теплоты, которое выделится в каждом из резисторов, расположенных на рисунке справа от ключа K , после его замыкания.
- 4) Как изменятся ответы для количеств теплоты, выделившихся в тех же резисторах, если ключ размыкают в момент, когда ток через катушку максимален?
- 5) Как изменятся ответы на вопросы 1), 2), 3) и 4), если катушка и конденсатор будут подключены к тем же точкам A и B не параллельно друг другу, а последовательно друг за другом?



Возможное решение

Поскольку в условии сказано, что цепь была подключена к источнику переменного напряжения давно, то это означает, что все переходные процессы в такой цепи давно прекратились. Для переменного тока параллельно соединенные конденсатор и катушка с выбранными значениями параметров C и L представляют собой бесконечно большое сопротивление (в любой момент времени сумма сил токов, текущих через конденсатор и катушку равна нулю, поскольку импедансы этих элементов цепи одинаковы, а токи через них текут в противофазе). Поэтому до замыкания ключа ток во всех семи резисторах одинаковый и равен $I(t) = U_0 \cos(\omega t)/(7R)$. Напряжение на конденсаторе и на катушке в любой момент времени также одинаковое, оно равно $4U_0 \cos(\omega t)/7$. Амплитуда этого переменного напряжения и есть максимальное напряжение на конденсаторе, то есть $U_{C\max} = 4U_0/7$.

Амплитуда тока, текущего через катушку, равна

$$I_{L\max} = 4U_0/(7\omega L) = 4\omega C U_0/7, \text{ или } I_{L\max} = \frac{4U_0}{7} \sqrt{\frac{C}{L}}.$$

Как уже говорилось, равные по модулю токи текут через конденсатор и через катушку в противофазе, в результате чего ток, протекающий по проводникам, соединяющим L - C контур с узлами A и B , равен нулю. В колебательном контуре запасена электрическая энергия, равная $C \times U_{C\max}^2/2$, или $L \times I_{L\max}^2/2$, или $8C(U_0)^2/49$, которая после замыкания ключа превратится в теплоту, выделившуюся в резисторах, расположенных справа от ключа.

Она распределится между пятью резисторами, которые находятся правее ключа. Из этой энергии $4/5$ доли выделится в резисторе, расположенном между ключом и конденсато-

ром, то есть $W_1 = 32CU_0^2/245$. В каждом из четырех оставшихся резисторов выделится четвертая часть от 1/5 доли энергии конденсатора, то есть 1/20 часть от упомянутой энергии: $W_2 = 2CU_0^2/245$.

От момента замыкания ключа теплота, выделившаяся в каждом из пяти резисторов, никак не зависит.

Если конденсатор и катушка будут подключены не параллельно, а последовательно друг за другом, то в этом случае для переменного тока такой колебательный контур представляет собой «короткое замыкание», то есть сопротивление на участке А – В равно нулю. В этом случае максимальный ток через катушку (и через конденсатор тоже) равен $U_0/(3R)$. Максимальная амплитуда напряжения на конденсаторе равна

$$U_{C\max} = U_0/(3R\omega C) = \omega LU_0/(3R), \text{ или } U_{C\max} = \frac{U_0}{3R} \sqrt{\frac{L}{C}}.$$

В колебательном контуре до замыкания ключа была запасена энергия: $LU_0^2/(18R^2)$.

Эта энергия после замыкания ключа превратится в теплоту, которая выделится в тех же пяти резисторах, расположенных на рисунке справа от ключа, в такой же пропорции, как и для параллельного соединения конденсатора и катушки. То есть в резисторе, расположенном на рисунке между ключом и колебательным контуром, выделится 4/5 от запасенной в контуре энергии, то есть: $2LU_0^2/(45R^2)$, а в каждом из оставшихся четырех резисторов выделится по 1/20 от запаса энергии в контуре, то есть по $LU_0^2/(360R^2)$.

Критерии оценивания

Правильное решение оценивается в 10 баллов независимо от выбранного участником метода.

Найдено максимальное значение напряжения на конденсаторе в первом случае.....	1 балл
Найдена максимальная сила тока через катушку в первом случае	1 балл
Даны правильные ответы на пункт 3 задачи	2 балла
Даны правильные ответы на пункт 4 задачи, либо указано, что они такие же, как и в третьем пункте	1 балл
Найдено максимальное значение напряжения на конденсаторе во втором случае.....	1 балл
Найдена максимальная сила тока через катушку во втором случае	1 балл
Найдены количества теплоты, выделившиеся в резисторах после замыкания ключа в случае последовательного соединения конденсатора и катушки	2 балла
Указано, что количества теплоты не зависят от момента замыкания ключа, либо подсчитаны для двух случаев и получены одинаковые значения	1 балл

Задача 6 (5 баллов)

Условие

С помощью тонкой собирающей линзы с фокусным расстоянием 20 см получили на экране увеличенное в 4 раза чёткое изображение предмета. Затем, не меняя положения линзы, экран придвинули на 40 см к линзе и переместили предмет так, чтобы на экране вновь получилось чёткое изображение предмета. Найдите новое расстояние от предмета до линзы. Какое увеличение получилось во втором случае?

Возможное решение

Пусть b — начальное расстояние от экрана до линзы, тогда начальное расстояние от предмета до линзы равно $b/4$ (использована формула для увеличения, даваемого линзой). По формуле тонкой линзы:

$$\frac{4}{b} + \frac{1}{b} = \frac{1}{F} \Rightarrow b = 5F = 100 \text{ см.}$$

Значит, новое расстояние от линзы до экрана $100 \text{ см} - 40 \text{ см} = 60 \text{ см}$. Запишем формулу тонкой линзы во втором случае, обозначив расстояние от предмета до линзы за x :

$$\frac{1}{x} + \frac{1}{60 \text{ см}} = \frac{1}{20 \text{ см}} \Rightarrow \frac{1}{x} = \frac{2}{60 \text{ см}} \Rightarrow x = 30 \text{ см.}$$

Теперь линза даёт изображение, увеличенное в $(60 \text{ см})/(30 \text{ см}) = 2$ раза.

Критерии оценивания

Правильное решение оценивается в 5 баллов независимо от выбранного участником метода.

Записана формула для увеличения	1 балл
Записана формула тонкой линзы	1 балл
Правильно найдено новое расстояние от предмета до линзы.....	2 балла
Правильно найдено новое увеличение	1 балл