

1. На горизонтальной подставке лежит груз, прикрепленный к потолку вертикальной нерастянутой пружиной. Подставка начинает опускаться вниз с постоянным ускорением $a = 2g/5$, g — ускорение свободного падения. Найдите, за какой промежуток времени τ после отрыва груза от подставки пружина растянется на максимальную длину. Известен период T свободных колебаний груза на пружине.

Решение

Рассмотрим сначала движение груза вместе с подставкой. Направим ось x вниз и будем отсчитывать координату груза от начального положения, в котором пружина не растянута. За начало отсчёта времени выберем момент начала движения. Запишем для груза второй закон Ньютона в проекции на ось x :

$$ma = mg - kx - N,$$

m — масса груза, k — жёсткость пружины, N — сила нормальной реакции, действующая со стороны подставки. Пусть x_0 — координата груза в момент отрыва от подставки. Учитывая, что в этот момент сила N обращается в нуль, получаем:

$$ma = mg - kx_0 \quad \longrightarrow \quad x_0 = \frac{m}{k}(g - a) = \frac{g - a}{\omega^2},$$

$\omega = \sqrt{k/m}$ — частота свободных колебаний груза на пружине. Найдём скорость V_0 , которую имеет груз в момент отрыва:

$$V_0 = at, \quad x_0 = \frac{at^2}{2} \quad \longrightarrow \quad x_0 = \frac{V_0^2}{2a} \quad \longrightarrow \quad V_0 = \sqrt{2ax_0} = \frac{\sqrt{2a(g-a)}}{\omega}.$$

После отрыва груз совершает гармонические колебания с частотой ω . Найдём координату положения равновесия x_p :

$$kx_p = mg \quad \longrightarrow \quad x_p = \frac{mg}{k} = \frac{g}{\omega^2}.$$

Для описания колебаний введём новую координату y , отсчитанную от положения равновесия:

$$y = x - x_p.$$

Время будем отсчитывать от момента отрыва. Начальное значение координаты y равно:

$$y_0 = x_0 - x_p = \frac{g - a}{\omega^2} - \frac{g}{\omega^2} = -\frac{a}{\omega^2}.$$

Начальная скорость груза равна V_0 . Зависимости от времени координаты и скорости груза при колебаниях определяются соотношениями:

$$\begin{aligned} y &= A \sin(\omega t + \varphi), \\ V_y &= \omega A \cos(\omega t + \varphi), \end{aligned}$$

A — амплитуда колебаний (положительная величина), φ — начальная фаза. Полагая $t = 0$, получаем:

$$\begin{aligned} y_0 &= A \sin \varphi, \\ V_0 &= \omega A \cos \varphi. \end{aligned}$$

Так как $y_0 < 0$, то угол φ лежит в четвёртой четверти. Выразим его через арктангенс:

$$\operatorname{tg} \varphi = \frac{\omega y_0}{V_0} = -\frac{a}{\sqrt{2a(g-a)}} = -\sqrt{\frac{a}{2(g-a)}} \quad \rightarrow \quad \varphi = -\operatorname{arctg} \sqrt{\frac{a}{2(g-a)}}.$$

В момент времени τ , когда пружина растянута на максимальную длину, скорость груза обращается в нуль:

$$V_y = 0 \quad \rightarrow \quad \cos(\omega\tau + \varphi) = 0 \quad \rightarrow \quad \omega\tau + \varphi = \frac{\pi}{2} \quad \rightarrow \quad \tau = \frac{1}{\omega} \left(\frac{\pi}{2} - \varphi \right).$$

Полагая $\omega = 2\pi/T$, получаем:

$$\tau = \frac{T}{2\pi} \left(\frac{\pi}{2} - \varphi \right) = \frac{T}{4} + \frac{T}{2\pi} \operatorname{arctg} \sqrt{\frac{a}{2(g-a)}}.$$

Этот результат можно получить по-другому, представив τ в виде:

$$\tau = \tau' + \frac{T}{4},$$

где τ' — время движения от момента отрыва до положения равновесия, $T/4$ — время движения от положения равновесия до момента максимального удлинения пружины. Для τ' имеем:

$$y = 0 \quad \rightarrow \quad \sin(\omega\tau' + \varphi) = 0 \quad \rightarrow \quad \omega\tau' + \varphi = 0 \quad \rightarrow \quad \tau' = -\frac{\varphi}{\omega} = \frac{T}{2\pi} \operatorname{arctg} \sqrt{\frac{a}{2(g-a)}}.$$

При $a = 2g/5$ результат для τ упрощается:

$$\tau = \frac{T}{4} + \frac{T}{2\pi} \operatorname{arctg} \frac{1}{\sqrt{3}} = \frac{T}{4} + \frac{T}{2\pi} \cdot \frac{\pi}{6} = \frac{T}{3}$$

Ответ :

$$\tau = \frac{T}{4} + \frac{T}{2\pi} \operatorname{arctg} \sqrt{\frac{a}{2(g-a)}} = \frac{T}{3}$$

Критерии

1. Записан II закон Ньютона для груза m и найдена координата груза m в момент отрыва от подставки (+2 балла).
2. Записаны кинематические уравнения для груза m в момент отрыва и найдена скорость V_0 (+1 балл).
3. Записаны зависимости от времени координаты и скорости груза при колебаниях и их уравнения в момент отрыва (+2 балла).
4. Написано уравнение для начальной фазы ϕ и посчитано её значение (+3 балла).
5. Записано условие максимального растяжения пружины при $V_y = 0$ в момент времени τ и получен правильный ответ (+2 балла).

ИЛИ

Найдено время движения от момента отрыва и до положения равновесия и время движения от положения равновесия до момента максимального удлинения пружины получен правильный ответ (+2 балла).

2. На льду стоит ящик, две противоположные стенки которого скреплены жёстким горизонтальным стержнем. По стержню может скользить, не касаясь дна ящика, муфта, соединённая пружинами с концами стержня. Сначала ящик и муфта неподвижны, пружины не деформированы. Коротким ударом ящику сообщают некоторую скорость в направлении стержня. Найдите отношение x минимальной и максимальной скоростей ящика при движении. Известно отношение α массы ящика к массе муфты: $\alpha = 9$. Считайте, что за время удара пружины не успевают деформироваться. Массами стержня и пружин, а также трением пренебрегите.

Решение

Пусть V_0 – начальная скорость ящика. Запишем закон сохранения импульса в проекции на направление V_0 :

$$MV_0 = MV_1 + mV_2,$$

M – масса ящика, m – масса муфты, V_1 и V_2 – проекции скоростей ящика и муфты. Скорость ящика достигает своих экстремальных значений в те моменты времени, когда его ускорение обращается в нуль, т.е. когда пружины не деформированы. Запишем закон сохранения энергии для этого случая:

$$\frac{MV_0^2}{2} = \frac{MV_1^2}{2} + \frac{mV_2^2}{2}.$$

Поделив оба уравнения на m и введя отношение масс $\alpha = M/m$, получаем:

$$\begin{aligned} \alpha V_0 &= \alpha V_1 + V_2, \\ \alpha V_0^2 &= \alpha V_1^2 + V_2^2. \end{aligned}$$

Перепишем эти уравнения так:

$$\begin{aligned} \alpha (V_0 - V_1) &= V_2, \\ \alpha (V_0^2 - V_1^2) &= V_2^2. \end{aligned}$$

Исключая отсюда V_2 , получаем уравнение для V_1 :

$$\alpha (V_0^2 - V_1^2) = \alpha^2 (V_0 - V_1)^2 \quad \longrightarrow \quad (V_0 - V_1)(\alpha (V_0 - V_1) - (V_0 + V_1)) = 0.$$

Уравнение имеет два корня, которые определяют максимальную и минимальную скорости ящика:

$$V_{max} = V_0, \quad V_{min} = \frac{\alpha - 1}{\alpha + 1} V_0.$$

Отношение x этих скоростей равно:

$$x = \frac{V_{min}}{V_{max}} = \frac{\alpha - 1}{\alpha + 1} = 0,8$$

Ответ :

$$x = \frac{\alpha - 1}{\alpha + 1} = 0,8$$

Критерии

1. Верно записан закон сохранения энергии (+3 балла).
2. Указано, что скорость максимальная/минимальна в те моменты, когда пружина недеформирована (+2 балла).
3. Верно записан закон сохранения энергии (+3 балла).
4. Получен ответ (+2 балла).

3. Горизонтальный цилиндр закрыт свободно скользящим поршнем. В цилиндре находится водяной пар при температуре $T_1 = 453$ К и давлении $2P_0$, $P_0 = 0,1$ МПа. Пар изохорически охлаждаются до температуры $T_2 = 373$ К, а затем изотермически уменьшают его объём в 2 раза. При этом внешние силы, действующие на поршень, совершают работу $A = 450$ Дж. Найдите массу m сконденсировавшейся воды. Давление насыщенного пара при температурах T_1 и T_2 равно соответственно $10P_0$ и P_0 , молярная масса воды $\mu = 18$ г/моль, универсальная газовая постоянная $R = 8,31$ Дж/(моль К). Объёмом воды по сравнению с объёмом пара пренебрегите, пар считайте идеальным газом. Ответ выразите в граммах и округлите до целого.

Решение

Рассмотрим изотермы пара на диаграмме (P, V) . При температурах ниже критической (647 К для воды) на изотермах имеются горизонтальные участки постоянного давления, соответствующие насыщенному пару. Давление на этих участках при температурах T_1 и T_2 равно соответственно $10P_0$ и P_0 . Так как начальное давление $2P_0$ меньше чем $10P_0$, то в начальном состоянии имеем ненасыщенный пар. Пусть ν_1 – число молей пара, V_1 – его объём. Тогда:

$$2P_0 V_1 = \nu_1 R T_1.$$

Выясним, будет ли пар насыщенным после изохорического охлаждения. Обозначим через V_H максимальный объём, который могут занимать ν_1 молей насыщенного пара при температуре T_2 . Учитывая, что давление насыщенного пара при этой температуре равно P_0 , имеем:

$$P_0 V_H = \nu_1 R T_2.$$

Поделив первое уравнение на второе, получаем:

$$\frac{2V_1}{V_H} = \frac{T_1}{T_2} \quad \longrightarrow \quad \frac{V_1}{V_H} = \frac{T_1}{2T_2} \approx 0,6$$

Так как $V_1 < V_H$, то после изохорического охлаждения пар становится насыщенным. Точка, изображающая его состояние на диаграмме (P, V) , лежит на горизонтальном участке изотермы T_2 . Поэтому дальнейшее изотермическое сжатие пара идёт при постоянном давлении P_0 и работа внешних сил легко вычисляется:

$$A = P_0 \left(V_1 - \frac{V_1}{2} \right) = \frac{P_0 V_1}{2} \quad \longrightarrow \quad P_0 V_1 = 2A.$$

Пусть ν – число молей сконденсировавшейся воды. Тогда число молей пара в конечном состоянии равно $(\nu_1 - \nu)$. Пренебрегая объёмом воды по сравнению с объёмом пара, получаем:

$$P_0 \frac{V_1}{2} = (\nu_1 - \nu) R T_2 \quad \longrightarrow \quad \nu = \nu_1 - \frac{P_0 V_1}{2 R T_2} = \nu_1 - \frac{A}{R T_2}.$$

Начальное число молей пара равно:

$$\nu_1 = \frac{2P_0 V_1}{R T_1} = \frac{4A}{R T_1}.$$

Масса m сконденсировавшейся воды равна:

$$m = \mu \nu = \mu \left(\frac{4A}{RT_1} - \frac{A}{RT_2} \right) = \frac{\mu A (4T_2 - T_1)}{RT_1 T_2}.$$

Подставим числовые значения:

$$m = \frac{0,018 \cdot 450 \cdot (4 \cdot 373 - 453)}{8,31 \cdot 453 \cdot 373} = 0,006 \text{ кг} = 6 \text{ г}$$

Ответ :

$$m = \frac{\mu A (4T_2 - T_1)}{RT_1 T_2} = 6 \text{ г}$$

Критерии

1. Верно записано уравнение состояния идеального газа для начального состояния (+2 балла).
2. Верно записано уравнение состояния идеального газа после изохорического охлаждения (+3 балла).
3. Определено выражение для работы внешних сил при изотермическом сжатии (+3 балла).
4. Найдено количество сконденсировавшейся воды (+2 балла).

Задача 4. Расположите 4 заряда величины $+q$ и 4 заряда величины $-q$ в вершинах куба со стороной a , таким образом, чтобы энергия электростатического взаимодействия всех зарядов была минимальной. Найдите величину этой энергии.

Возможное решение. Энергия электростатического взаимодействия представляет собой сумму всех энергий попарных взаимодействий. В кубе все заряды могут находиться друг от друга на расстоянии a (ближайшие соседи, вдоль ребра), $\sqrt{2}a$ (по диагоналям граней куба), $\sqrt{3}a$ (диаметрально противоположные точки). Обозначим их соседями первого, второго, и третьего типа соответственно. Нетрудно заметить, что соседей первого типа — 12, второго — 12, третьего — 4. Энергия взаимодействия каждой пары:

$$W_1 = \pm \frac{kq^2}{a}; \quad W_2 = \pm \frac{kq^2}{\sqrt{2}a} = \pm \frac{1}{\sqrt{2}} W_1; \quad W_3 = \pm \frac{kq^2}{\sqrt{3}a} = \pm \frac{1}{\sqrt{3}} W_1.$$

Нетрудно догадаться, что для того чтобы минимизировать общую энергию надо создать как можно больше разноименных соседей первого типа. Существует конфигурация, где все соседи первого типа — разноименные, например ячейка кристаллической решетки NaCl:

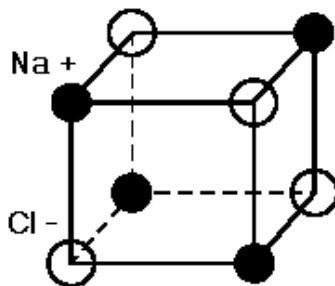


Рис. к задаче 4

У такой решетки все соседи второго типа одноименные, а третьего — разноименные. Тогда энергия равна:

$$W = -12W_1 + 12W_2 - 4W_3 = W_1 \left(-12 + \frac{12}{\sqrt{2}} - \frac{4}{\sqrt{3}} \right) \simeq -5,82W_1$$

Эта энергия является минимальной.

В силу высокой симметрии куба, расстановок зарядов в вершинах, не переводимых друг в друга вращениями и зеркальными отображениями не так много. Все они получаются из перестановок зарядов вышеуказанной конфигурации вдоль вертикальных ребер (т.е. перестановка заряда из верхней грани с его соседом снизу). **Необходимо доказать**, что данная конфигурация обладает наименьшей энергией. Допускается обоснованный перебор вариантов.

Также доказать, данная энергия минимальна можно исходя из оценки энергии одного заряда.

Возьмем произвольный заряд $+q$. Для того, чтобы минимизировать его энергию будем располагать заряды следующим образом: заряды $-q$ расположим в качестве ближайших соседей (3 шт.), еще один $-q$ будет соседом второго типа, 4 заряда $+q$ займут оставшиеся места. Такое расположение отличается от оптимального ровно одной перестановкой, и энергия всей системы в данном случае будет больше, т.к. энергии всех остальных зарядов сильно вырастут, за счет большого количества одноименных соседей первого типа.

Ключевая особенность расположения: минимум энергии системы не соответствует минимуму для каждого заряда.

Критерии

1. Верное решение — 10 баллов.
2. Представлена верная конфигурация зарядов, но допущены ошибки при расчете минимальной энергии электростатического взаимодействия или есть некорректность в обосновании верной конфигурации зарядов — 8 – 9 баллов.
3. Представлена верная конфигурация зарядов (без обоснования) и получен правильный ответ — 7 баллов.

4. Представлена и обоснована только верная конфигурация зарядов — 6 баллов.
5. Представлена верная конфигурация зарядов, но присутствуют ошибки в уравнении для минимальной энергии электростатического взаимодействия или есть верные шаги в обосновании верной конфигурации зарядов — 3 – 6 баллов.
6. Представлена верная конфигурация зарядов без обоснования — 2 балла.

Задача 5. В электрической схеме, показанной на рисунке, в начальный момент времени все конденсаторы разряжены. Ключ К сначала переводят в положение 1, затем, подождав достаточное количество времени для полной зарядки конденсаторов переключают в положение 2. Найдите:

а) количество теплоты Q_1 , выделившееся в цепи за то время, пока ключ был в положении 1.

б) количество теплоты Q_2 , выделившееся в цепи за то время, пока ключ был в положении 2.

в) заряд, протекший через ключ К в положении 2.

Величины, указанные на рисунке считать известными.

Возможное решение.

а) После замыкания ключа в положении 1, конденсаторы зарядятся.

Обозначим заряды на конденсаторах как показано на рисунке 5.1:

Конденсаторы C и $2C$ в этом случае соединены последовательно, поэтому $q_1 = q_2 = q$.

Для цепи можно записать уравнение:

$$\mathcal{E} = \frac{q}{C} + \frac{q}{2C}, \text{ откуда } q = \frac{2}{3}c\mathcal{E}$$

Работа ЭДС пойдет на приращение энергии конденсаторов и на выделение тепла на резисторах.

$$\mathcal{E}q = \frac{q^2}{2C} + \frac{q^2}{2 \cdot 2C} + Q_1$$

Тогда

$$Q_1 = \frac{2}{3}C\mathcal{E}^2 - \frac{3}{2} \frac{(2/3C\mathcal{E})^2}{2C} = \frac{1}{3}C\mathcal{E}^2$$

б) При переключении ключа K в положение 2 пойдет процесс перезарядки конденсаторов с выделением тепла на резисторах. В данном случае конденсаторы $2C$ и $3C$ не будут соединены последовательно, т.к. на конденсаторе $2C$ перед переключением был заряд.

Обозначим новые заряды на конденсаторах как показано на рисунке 5.2.

Из закона сохранения заряда: $q = q_2 = q'_2 + q'_3$. Ток прекратится, когда на конденсаторах выровняются потенциалы: $q'_2/2C = q'_3/3C$. Тогда $q'_2 = \frac{2}{5}q = \frac{4}{15}C\mathcal{E}$

$$q'_3 = \frac{3}{5}q = \frac{2}{5}C\mathcal{E}$$

Энергия, запасенная в конденсаторе $2C$, перераспределится между конденсаторами $2C$ и $3C$, часть уйдет в тепло:

$$\frac{q_2^2}{2 \cdot 2C} = \frac{q'^2_2}{2 \cdot 2C} + \frac{q'^2_3}{2 \cdot 3C} + Q_2$$

$$Q_2 = \frac{1}{15}C\mathcal{E}$$

в) Заряд, протекший через ключ после переключения в положение 2:

$$\Delta q = |q_2 - q'_2| = |q'_3| = \frac{2}{5}C\mathcal{E}$$

Критерии

1. Правильно найдены заряды/напряжения на конденсаторах в первом положении ключа (+2 балла).
2. Правильно записан закон сохранения энергии в первом положении ключа (+1 балл).

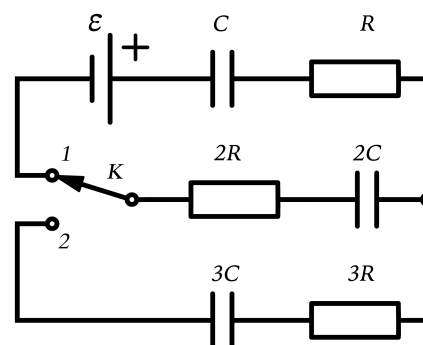


Рис. к задаче 5

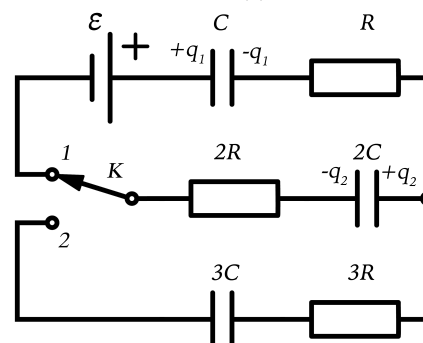


Рис. 5.1

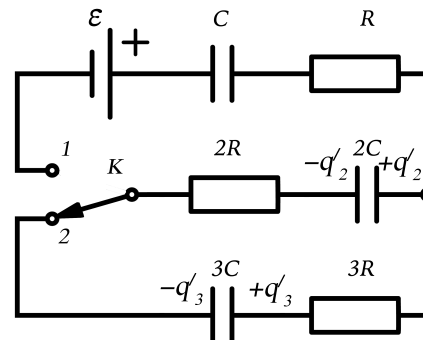
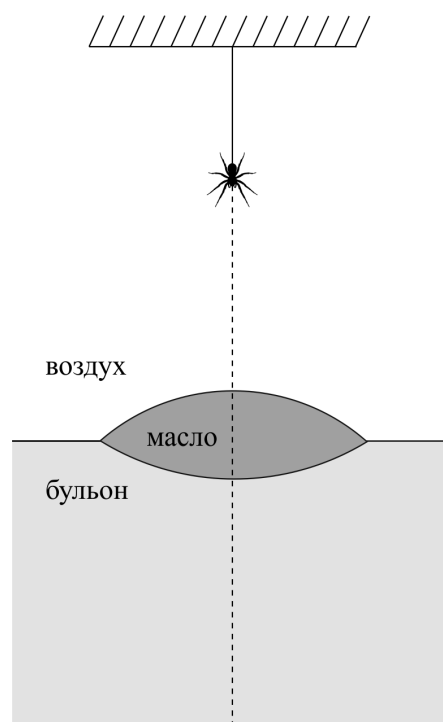


Рис. 5.2

3. Получено значение Q_1 (+1 балл).
4. Правильно найдены заряды/напряжения на конденсаторах во втором положении ключа (+2 балла).
5. Правильно записан закон сохранения энергии во втором положении ключа (+2 балла).
6. Получено значение Q_2 (+1 балл).
7. Найден заряд Δq (+1 балл).

Задача 6.

На ровном горизонтальном столе находится тарелка с бульоном, на поверхности которого плавают масляные капли. Над тарелкой находится паучок Аркаша, который спускается по паутине с постоянной скоростью v . В некоторый момент времени, оказавшись на высоте h над одной из капель, с радиусами кривизны R_1 (поверхность воздух-масло) и R_2 (поверхность бульон-масло), Аркаша увидел свое изображение на дне тарелки. Определите фокусные расстояния линзы, образуемой масляной каплей на поверхности бульона (см. рисунок) и скорость изображения Аркаши в системе отсчёта паучка в этот момент. Показатели преломления масла, бульона и воздуха известны и находятся в соотношении $n_{\text{масла}} > n_{\text{бульона}} > n_{\text{воздуха}} \approx 1$.



- 1) Аркаша видит свое действительное изображение на дне тарелки (изображение, которое видит паучок формируется отраженными лучами от дна тарелки), значит h больше, чем фокусное расстояние линзы со стороны воздуха,
- 2) Для расчета расстояния до верхней и нижней фокальной плоскости линзы, лежащей на бульоне, найдем оптическую силу линзы, опущенной в воду. Сначала разделим ее на 2 части, одну лежащую в воздухе, а другую в воде, а затем просуммируем оптические силы этих частей.

$$\Phi_1 = \frac{n_{\text{масла}} - 1}{R_1}, \quad \Phi_2 = \frac{n_{\text{масла}} - n_{\text{бульона}}}{R_2}$$

$$\Phi = \Phi_1 + \Phi_2 = \frac{n_{\text{ст.л.}} - 1}{R_1} + \frac{n_{\text{ст.л.}} - n_{\text{бульона}}}{R_2}$$

кроме того, вспомним, что оптическая сила линзы будет равна $D = \frac{n_{\text{возд.}}}{f_1} = \frac{n_{\text{бульона}}}{f_2}$. Отсюда можно выразить расстояния до верхней и нижней фокальной плоскости (f_1 и f_2 соответственно).

$$f_1 = \frac{R_1 R_2}{(n_{\text{масла}} - 1)R_2 + (n_{\text{масла}} - n_{\text{бульона}})R_1}$$

$$f_2 = \frac{R_1 R_2 \cdot n_{\text{бульона}}}{(n_{\text{масла}} - 1)R_2 + (n_{\text{масла}} - n_{\text{бульона}})R_1}$$

- 3) Теперь найдем то, с какой скоростью движется наше изображение. Оно будет действительным. С поправками на показатели преломления сред слева и справа линзы мы можем записать формулу тонкой линзы, используя расстояния от объекта до линзы и от линзы до изображения. Запишем ее для определенного момента времени t

$$\frac{n_{\text{бульона}}}{f_1} = \frac{n_{\text{возд.}}}{a} + \frac{n_{\text{бульона}}}{b}$$

$$\frac{1}{f_1} = \frac{1}{a} + \frac{n_{\text{бульона}}}{b}$$

Теперь запишем эту формулу для момента времени $t+dt$

$$\frac{1}{f_1} = \frac{1}{a - da} + \frac{n_{\text{бульона}}}{b + db}$$

Вычтем друг из друга две предыдущие скорости

$$0 = \frac{da}{a(a - da)} + \frac{db \cdot n_{\text{бульона}}}{b(b + db)}$$

Теперь, поделив все на dt мы получим зависимость скоростей от отношения $(b/a)^2$, то есть от линейного увеличения в квадрате и от показателя преломления воды. Но т.к. нам нужно найти скорость в системе отсчета паука, то еще прибавим v .

$$v_1 = \frac{v \cdot \Gamma^2}{n_{\text{бульона}}} + v$$

Так же можно посчитать скорость движения изображения, из знания коэффициента продольного увеличения тонкой линзы.

Критерии

1. Правильно определены оптические силы (+2 балла). Если указана только одна оптическая сила (+ 1 балл).
2. Правильно найдены фокусные расстояния (+4 балла). Если найдено только одно фокусное расстояние (+2 балла).
3. Найдена искомая скорость (+4 балла).

При нахождении скорости через увеличения линзы применимы следующие критерии

- a. Найдено поперечное увеличение (+1 балл).
- b. Найдено продольное увеличение (+1 балл).
- c. Показано, что скорости связаны через продольное увеличение (+1 балл).
- d. Получен ответ для скорости изображения в системе паука (+1 балл).